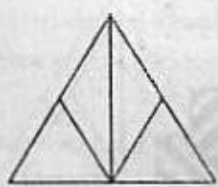
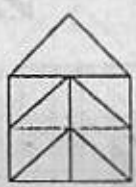


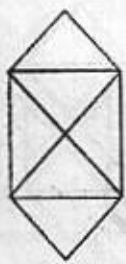
-3 စက်သီး E ၏ အချင်းသည် စက်သီး D ၏ အချင်းထက် နှစ်ဆကြီးသည်။ အကယ်၍ ပင်နီယံ A သည် နာရီလက်တံအတိုင်း ၈ ကြိမ်လည်ပတ်ပါက စက်သီး E သည် မည်သည့် ဦးလှည့်ဘက်ဖြင့် အကြိမ်မည်မျှ လည်ပတ်မည်နည်း။




A



B

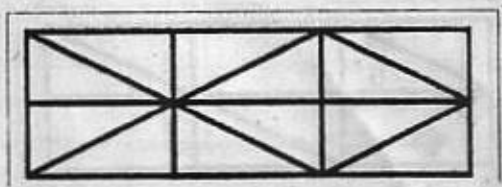


C



D

-4 မည်သည့်အရာသည် ကြိတ်အများဆုံး ပါဝင်သနည်း။



-5 ကြိတ်မည်မျှ ပါဝင်သနည်း။